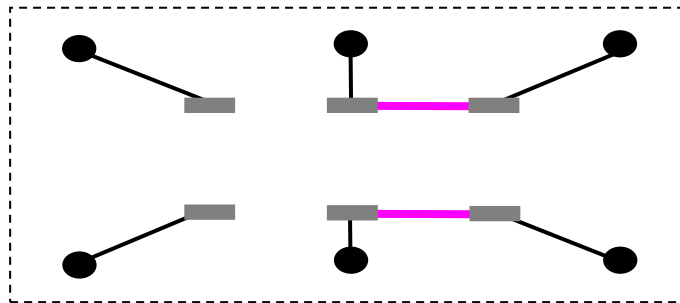
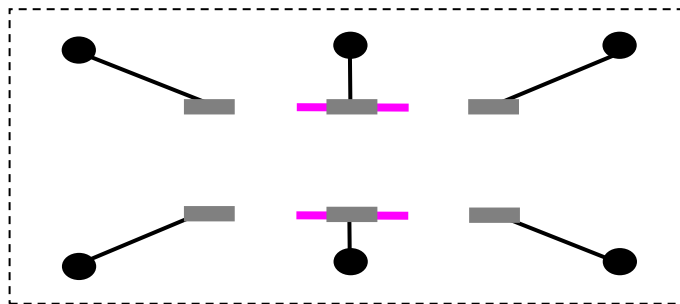
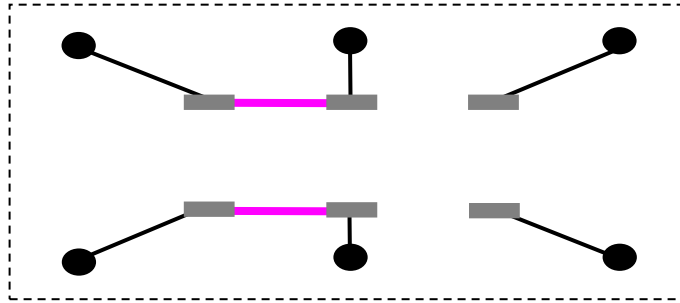


1.2.121 ΔΙΑΚΟΠΤΗΣ ON OFF ON 6 ΑΚΡΟΔΕΚΤΩΝ

1. Στα σχήματα πιο κάτω φαίνονται οι συνδέσεις των ακροδεκτών του διακόπτη (■) με τις βίδες (●). Παρουσιάζονται οι 3 θέσεις του διακόπτη.



2. Παράδειγμα κυκλώματος με τις συνδέσεις που θα πρέπει να γίνουν στις βίδες για να λειτουργήσει ο κινητήρας στις 3 καταστάσεις (αριστερόστροφη κίνηση, θέση OFF, δεξιόστροφη κίνηση).

